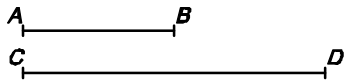
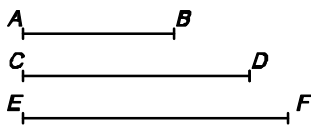


1- DONATS DOS SEGMENTS, DETERMINAR-NE LA SUMA I LA DIFERÈNCIA




3- CONSTRUCCIÓ DEL SEGMENT QUE SIGUI LA MITJANA PROPORCIONAL A DOS SEGMENTS DONATS




5- CONSTRUCCIÓ DE LA QUARTA PROPORCIONAL A TRES SEGMENTS DONATS



2- DIVISIÓ D'UN SEGMENT EN UN NOMBRE DE PARTS IGUALS



4- CONSTRUCCIÓ DE LA TERCERA PROPORCIONAL A DOS SEGMENTS DONATS



6- DONAT UN SEGMENT, DETERMINAR-NE LA DIVISIÓ ÀURIA



7- DETERMINACIÓ DEL SEGMENT LA DIVISIÓ ÀURIA DEL QUAL SIGUI UN SEGMENT DONAT