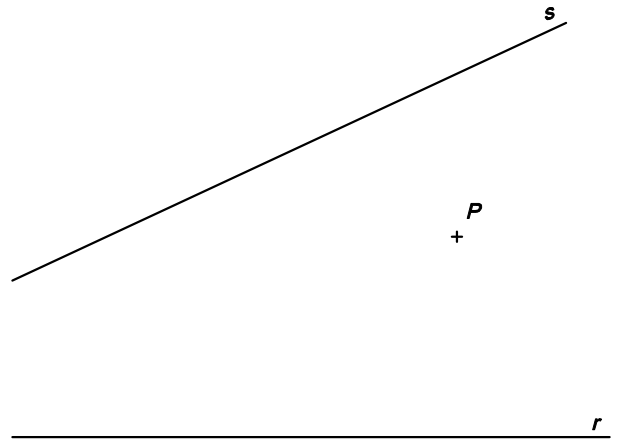
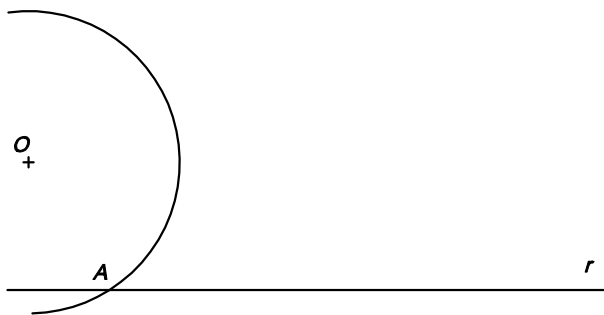


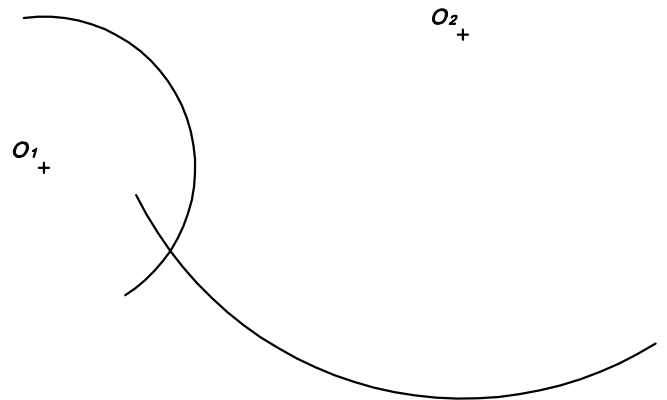
1- DONADES DUES RECTES QUE ES TALLEN FORA DELS LÍMITS DEL DIBUIX, TRAÇAR LA BISECTRIU DE L'ANGLE QUE FORMEN



2- DONADES DUES RECTES QUE ES TALLEN FORA DELS LÍMITS DEL DIBUIX, I UN PUNT P, TRAÇAR LA RECTA CONCURRENT AMB ELLES I QUE PASSI PEL PUNT DONAT



3- TRAÇAR LA BISECTRIU DE L'ANGLE MIXTILINI



4- TRAÇAR LA BISECTRIU DE L'ANGLE CURVILINI