

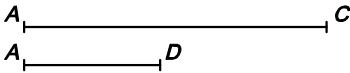

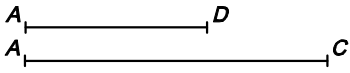
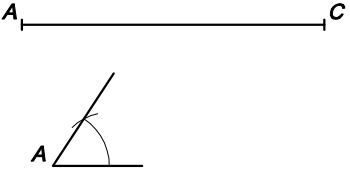
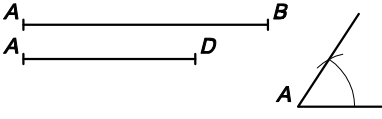
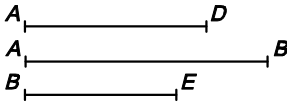
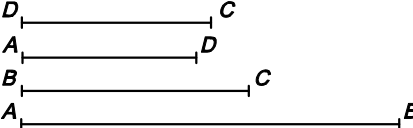
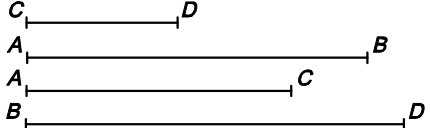
 <p>1- CONSTRUCCIÓ D'UN QUADRAT DONAT EL COSTAT</p>	 <p>2- CONSTRUCCIÓ D'UN QUADRAT CONEGUDA LA DIAGONAL</p>	 <p>3- CONSTRUCCIÓ D'UN RECTANGLE CONEGUTS ELS COSTATS</p>
 <p>4- CONSTRUCCIÓ D'UN RECTANGLE CONEGUTS UN COSTAT I LA DIAGONAL</p>	 <p>5- CONSTRUCCIÓ D'UN RECTANGLE CONEGUTS LA SUMA DELS COSTATS I LA DIAGONAL</p>	 <p>6- CONSTRUCCIÓ D'UN ROMBE CONEGUTS EL COSTAT I UNA DIAGONAL</p>
 <p>7- CONSTRUCCIÓ D'UN ROMBE CONEGUTS UN ANGLE I LA DIAGONAL</p>	 <p>8- CONSTRUCCIÓ D'UN ROMBOIDE CONEGUTS ELS COSTATS I UN ANGLE</p>	 <p>9- CONSTRUCCIÓ D'UN ROMBOIDE CONEGUTS ELS COSTATS I L'ALTURA</p>
 <p>9- CONSTRUCCIÓ D'UN TRAPEZI ESCALÈ CONEGUTS ELS QUATRE COSTATS</p>	 <p>10- CONSTRUCCIÓ D'UN TRAPEZI ESCALÈ CONEGUTS LES BASES I LES DIAGONALS</p>	